


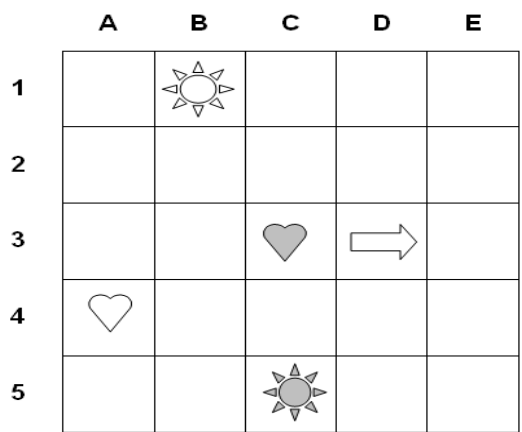
Repérer une case ou un point sur un quadrillage Série : 60 Groupe : 1



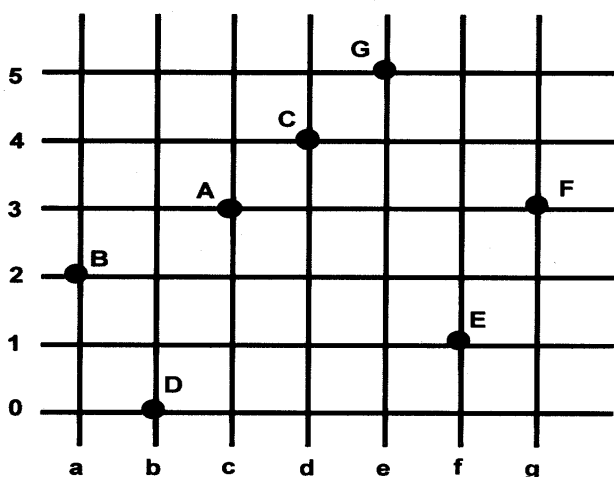
Observe le dessin de ce parc de loisirs.

4. Le garçon se trouve dans la case :
 5. La fille se trouve dans la case :

1. Le bateau se trouve dans la case :
 • D2 •• D3 ••• C3
 2. Le ballon se trouve dans la case :
 • F4 •• G5 ••• F5
 3. Le gardien du parc se trouve dans la case :
 • A1 •• G3 ••• G2
 • A1 •• D1 ••• G3
 • C1 •• A1 ••• D1



6. Le cœur gris se trouve dans la case D5.
 • Vrai ••• Faux
 7. La flèche se trouve dans la case D3.
 • Vrai •• Faux
 8. Le soleil blanc se trouve dans la case C5.
 • Vrai •• Faux



Le code du point A est c3.

12. Quel est le code du point F ?

9. Quel est le code du point B ?
 • a2 •• d0 ••• c3
 10. Quel est le code du point C ?
 • c4 •• d3 ••• d4
 11. Quel est le code du point E ?
 • f1 •• f0 ••• g1
 • g3 •• g2 ••• g4

Codes série 60 – groupe 1 :

1- ●●

4- ●

7- ●

10- ●●●

2- ●●●

5- ●●●

8- ●●

11- ●

3- ●●

6- ●●●

9- ●

12- ●

Correction

Repérer une case ou un point sur un quadrillage

Série : 60 Groupe : 1

1. Le bateau se trouve dans la case **D3**.
2. Le ballon se trouve dans la case **F5**
3. Le gardien du parc se trouve dans la case **G3**.
4. Le garçon se trouve dans la case **A1**.
5. La fille se trouve dans la case **D1**.
6. Le cœur gris ne **se trouve pas** dans la case **D5**.
7. La flèche **se trouve** dans la case **D3**.
8. Le soleil blanc ne **se trouve pas** dans la case **C5**.
9. Le code du point **A** est : **c3**.
10. Le code du point **A** est : **d4**
11. Le code du point **A** est : **f1**.
12. Le code du point **A** est : **g3**.