


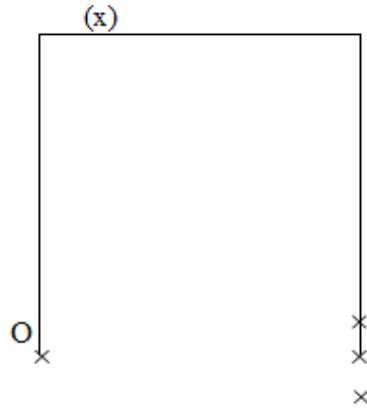
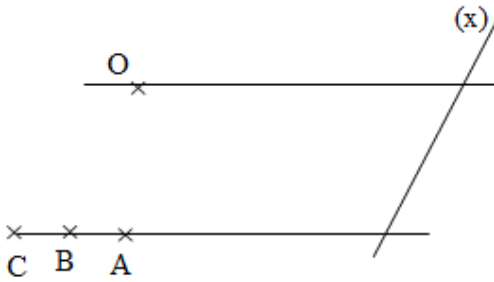
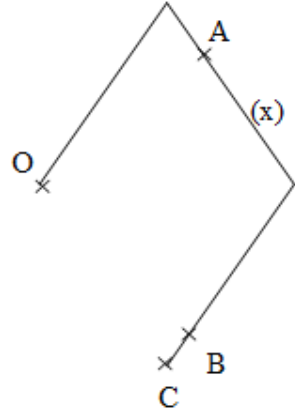
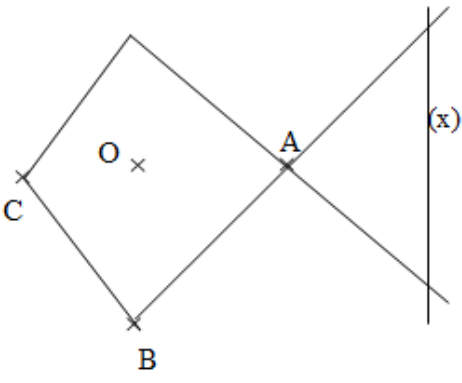
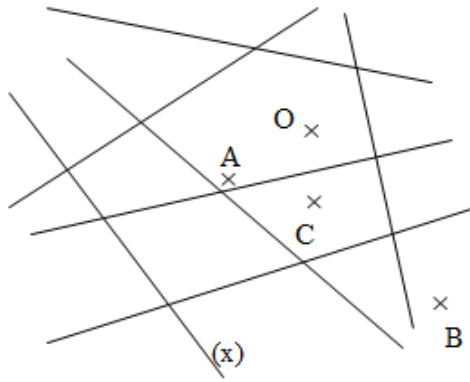
Série : 60 Groupe : 10

Tracer à l'aide de l'équerre et de la règle une parallèle à une droite donnée.

Trace, à l'aide de la règle et de l'équerre, la parallèle à la droite (x) passant par le point O.
Par quel point passe-t-elle aussi : A ? B ? ou C ?

	<p>A **</p> <p>B *</p> <p>C ***</p>		<p>A *</p> <p>B **</p> <p>C ***</p>
	<p>A **</p> <p>B ***</p> <p>C *</p>		<p>A **</p> <p>B ***</p> <p>C *</p>
	<p>A ***</p> <p>B *</p> <p>C **</p>		<p>A **</p> <p>B *</p> <p>C ***</p>

Attentionner les lignes du tableau

	<p>A ***</p> <p>B *</p> <p>C **</p>		<p>A **</p> <p>B ***</p> <p>C *</p>
	<p>A **</p> <p>B *</p> <p>C ***</p>		<p>A **</p> <p>B ***</p> <p>C *</p>
	<p>A **</p> <p>B ***</p> <p>C *</p>		<p>A *</p> <p>B ***</p> <p>C **</p>

Codes série 60 – groupe 10 :

- 1- ●●
- 2- ●
- 3- ●●●

- 4- ●●●
- 5- ●●
- 6- ●●●

- 7- ●●
- 8- ●●●
- 9- ●

- 10- ●
- 11- ●●●
- 12- ●●●

Série : 60 Groupe : 10

Tracer à l'aide de l'équerre et de la règle une parallèle à une droite donnée.

Trace, à l'aide de la règle et de l'équerre, la parallèle à la droite (x) passant par le point O.
Par quel point passe-t-elle aussi : A ? B ? ou C ?

A

C

O

(x)

B

A
**

B
*

C

C

A

O

B

(x)

A
*

B
**

C

C

B

A

O

(x)

A
**

B

C
*

C

O

A

B

(x)

A
**

B

C
*

A

C

B

O

(x)

A

B
*

C
**

A

O

B

C

(x)

A
**

B
*

C

	<p>A *** B * C **</p>		<p>A ** B *** C *</p>
	<p>A ** B * C ***</p>		<p>A ** B *** C *</p>
	<p>A ** B *** C *</p>		<p>A * B *** C **</p>