
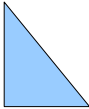
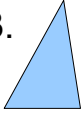
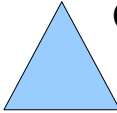










**Reconnaître de manière perceptive une figure plane, en
donner le nom.**

Série : 60 Groupe : 17

Trouve le nom des figures planes suivantes

1.  Cette figure est :
• un triangle •• un triangle rectangle ••• un triangle isocèle
2.  Cette figure est :
• un carré •• un triangle ••• un triangle rectangle
3.  Cette figure est :
• un carré •• un triangle ••• un rectangle
4.  Ce triangle est :
• isocèle •• rectangle ••• équilatéral
5.  Cette figure est :
• un rectangle •• un triangle ••• un cercle
6.  Cette figure est :
• un rectangle •• un carré ••• un cercle
7.  Cette figure est :
• un carré •• un triangle ••• un cercle
8.  Cette figure est :
• un carré •• un losange ••• un cercle
9.  Cette figure est :
• un rectangle •• un carré ••• un cercle
10.  Cette figure :
• n'est pas plane •• est un carré ••• est un cercle
11.  Cette figure est :
• un rond carré •• un carré rond ••• n'existe pas
12.  Cette figure est :
• un cercle souriant •• un rectangle souriant ••• un triangle souriant

Codes série 60 – groupe 17 :

1- ●●●

4- ●●●

7- ●

10- ●

2- ●●●

5- ●●●

8- ●●

11- ●●●

3- ●●

6- ●

9- ●

12- ●

Correction**Reconnaître de manière perceptive une figure plane, en donner le nom.****Série : 60 Groupe : 17**

1.  Cette figure est :
 ● un triangle ● un triangle rectangle ●●● un triangle isocèle
2.  Cette figure est :
 ● un carré ● un triangle ●●● un triangle rectangle
3.  Cette figure est :
 ● un carré ●● un triangle ●●● un rectangle
4.  Ce triangle est :
 ● isocèle ● rectangle ●●● équilatéral
5.  Cette figure est :
 ● un rectangle ● un triangle ●●● un cercle
6.  Cette figure est :
 ● un rectangle ● un carré ●● un cercle
7.  Cette figure est :
 ● un carré ● un triangle ●● un cercle
8.  Cette figure est :
 ● un carré ●● un losange ●● un cercle
9.  Cette figure est :
 ● un rectangle ● un carré ●● un cercle
10.  Cette figure :
 ● n'est pas plane ● est un carré ●● est un cercle
11.  Cette figure est :
 ● un rond carré ● un carré rond ●●● n'existe pas
12.  Cette figure est :
 ● un cercle souriant ● un rectangle souriant ●● un triangle souriant