


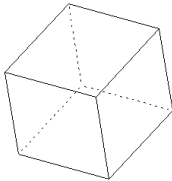
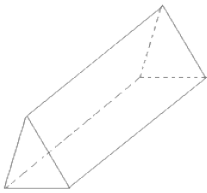
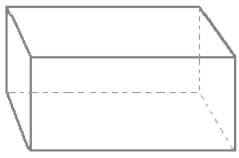
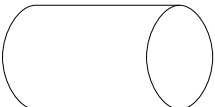


# Solides : cube, pavé droit, cylindre, prismes droits, pyramide

## Série 60 : Groupe 24 :

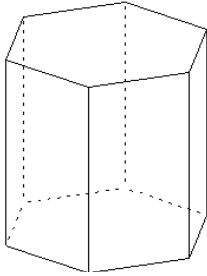
Percevoir un solide, en donner le nom :

1.  Ce solide est-il ?  
 Cube                      prisme droit                      pavé droit  
 •                      ••                      •••
  
2.  Ce solide est-il ?  
 Pyramide                      prisme droit                      cube  
 •                      ••                      •••
  
3.  Ce solide est-il ?  
 Cylindre                      pavé droit                      pyramide  
 •                      ••                      •••
  
4.  Ce solide est-il ?  
 cube                      pavé droit                      prisme droit  
 •                      ••                      •••
  
5.  Ce solide est-il ?  
 pavé droit                      prisme droit                      cylindre  
 •                      ••                      •••
  
6.  Ce solide est-il ?  
 Cube                      prisme droit                      pavé droit  
 •                      ••                      •••

7.  Ce solide est-il ?

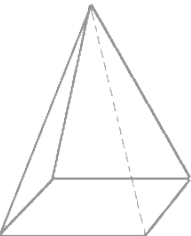
Cylindre      cube      pavé droit

•                    ••                    •••

8.  Ce solide est-il ?


pavé droit      Prisme droit      cylindre

•                    ••                    •••

9.  Ce solide est-il ?


Pavé droit      prisme droit      pyramide

•                    ••                    •••

10.  Ce solide est-il ?

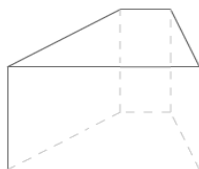
Pavé droit      prisme droit      cube

•                    ••                    •••

11.  Ce solide est-il ?

Pavé droit      pyramide      cylindre

•                    ••                    •••

12.  Ce solide est-il ?

Pavé droit      pyramide      prisme droit

•                    ••                    •••

Codes série 60 – groupe 24 :

1- ●●●

4- ●

7- ●

10- ●

2- ●●●

5- ●●

8- ●●

11- ●●●

3- ●

6- ●●●

9- ●●●


12- ●●●


**Correction**


**Solides : cube, pavé droit, cylindre, prismes droits, pyramide**

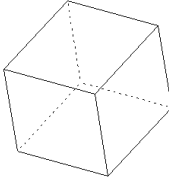
Série 60 - Groupe 24 :

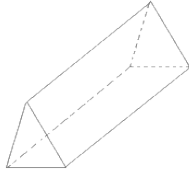
**Percevoir un solide, en donner le nom :**


1.  Ce solide est-il ?  
 Cube      prisme droit      **pavé droit**  
 ●              ●●              ●●●

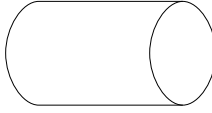
2.  Ce solide est-il ?  
 Pyramide      prisme droit      **cube**  
 ●              ●●              ●●●

3.  Ce solide est-il ?  
**Cylindre**      pavé droit      pyramide  
 ●              ●●              ●●●

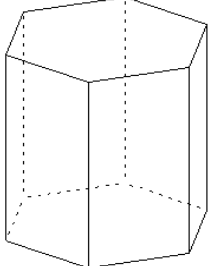
4.  Ce solide est-il ?  
**cube**      pavé droit      prisme droit  
 ●              ●●              ●●●

5.  Ce solide est-il ?  
 pavé droit      **prisme droit**      cylindre  
 ●              ●●              ●●●

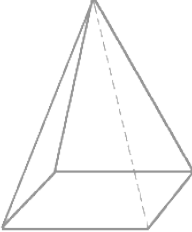
6.  Ce solide est-il ?  
 Cube      prisme droit      **pavé droit**  
 ●              ●●              ●●●

7.  Ce solide est-il ?


<b>Cylindre</b>	cube	pavé droit
•	••	•••

8.  Ce solide est-il ?


pavé droit	<b>prisme droit</b>	cylindre
•	••	•••

9.  Ce solide est-il ?

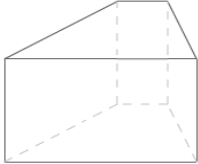
Pavé droit	prisme droit	<b>pyramide</b>
•	••	•••

10.  Ce solide est-il ?

<b>Pavé droit</b>	prisme droit	cube
•	••	•••

11.  Ce solide est-il ?

Pavé droit	pyramide	<b>cylindre</b>
•	••	•••

12.  Ce solide est-il ?

Pavé droit	pyramide	<b>prisme droit</b>
•	••	•••