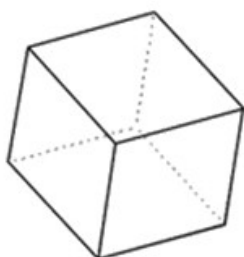


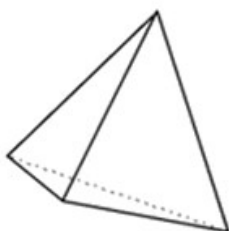
Solides : cube, pavé droit, cylindre, prismes droits, pyramide

Série : 60 Groupe : 26


Décrire un solide en vue de l'identifier dans un lot de solides ou de le faire reproduire sans équivoque



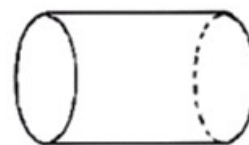
A - Cube



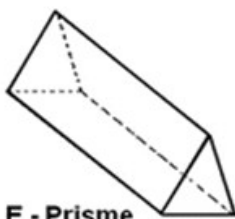
B - Tétraèdre



C - Pavé



D - Cylindre



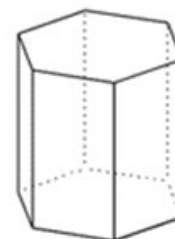
E - Prisme



F - Cône



G - Pyramide



H - Prisme

1. Je ne suis pas un polyèdre, j'ai 2 faces circulaires. Qui suis-je ?

solide F ●

solide D ●●

solide H ●●●

2. J'ai 6 faces identiques. Qui suis-je ?

solide C ●

solide B ●●

solide H ●●●

3. J'ai des faces rectangulaires et 8 sommets. Qui suis-je ?

solide H ●

solide E ●●

solide C ●●●

4. J'ai 5 faces et 8 arêtes. Qui suis-je ?

solide G ● solide E ●● solide B ●●●

5. 4 de mes arêtes se rejoignent en un même sommet.
Qui suis-je ?

solide A ● solide G ●● solide C ●●●

6. J'ai 8 faces. Qui suis-je ?

solide F ● solide D ●● solide H ●●●

7. J'ai 9 arêtes. Qui suis-je ?

solide F ● solide G ●● solide E ●●●

8. J'ai 1 sommet de plus que de faces. Qui suis-je ?

solide E ● solide C ●● solide H ●●●

9. Je ne suis pas un polyèdre, j'ai une face circulaire.
Qui suis-je ?

solide D ● solide B ●● solide F ●●●

10. Mes faces sont toutes des rectangles. Qui suis-je ?

solide C ● solide H ●● solide E ●●●

11. J'ai 6 arêtes. Qui suis-je ?

solide C ● solide E ●● solide B ●●●

12. J'ai autant de sommets que de faces, qui sont
identiques. Qui suis-je ?

solide A ● solide G ●● solide B ●●●

Codes série 60 – groupe 26 :

1- ●●	4- ●	7- ●●●	10- ●
2- ●●●	5- ●●	8- ●	11- ●●●
3- ●●●	6- ●●●	9- ●●●	12- ●●●

Correction**Solides : cube, pavé droit, cylindre, prismes droits, pyramide****Série : 60 Groupe : 26****Décrire un solide en vue de l'identifier dans un lot de solides ou de le faire reproduire sans équivoque**

1. Je ne suis pas un polyèdre, j'ai 2 faces circulaires. Qui suis-je ?

solide F ● **solide D ●●** solide H ●●●

2. J'ai 6 faces identiques. Qui suis-je ?

solide C ● solide B ●● **solide H ●●●**

3. J'ai des faces rectangulaires et 8 sommets. Qui suis-je ?

solide H ● solide E ●● **solide C ●●●**

4. J'ai 5 faces et 8 arêtes. Qui suis-je ?

solide G ● solide E ●● solide B ●●●

5. 4 de mes arêtes se rejoignent en un même sommet. Qui suis-je ?

solide A ● **solide G ●●** solide C ●●●

6. J'ai 8 faces. Qui suis-je ?

solide F ● solide D ●● **solide H ●●●**

7. J'ai 9 arêtes. Qui suis-je ?

solide F ● solide G ●● **solide E ●●●**

8. J'ai 1 sommet de plus que de faces. Qui suis-je ?

solide E ● solide C ●● solide H ●●●

9. Je ne suis pas un polyèdre, j'ai une face circulaire. Qui suis-je ?

solide D ● solide B ●● **solide F ●●●**

10. Mes faces sont toutes des rectangles. Qui suis-je ?

solide C ● solide H ●● solide E ●●●

11. J'ai 6 arêtes. Qui suis-je ?

solide C ● solide E ●● **solide B ●●●**

12. J'ai autant de sommets que de faces, qui sont identiques. Qui suis-je ?

solide A ● solide G ●● **solide B ●●●**