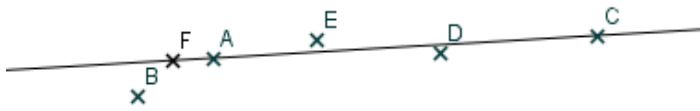


Série : 60 Groupe : 3


Vérifier à l'aide de la règle que des points sont alignés.

1. Quels sont les points qui sont sur la droite (AC) ?



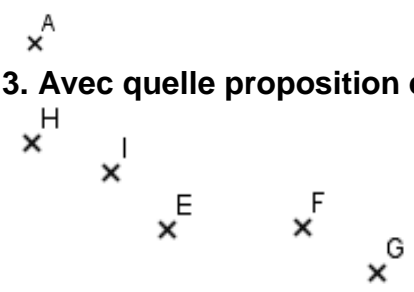
- F et D
- F
- F, E et D

2. Avec quelle proposition es-tu d'accord ?



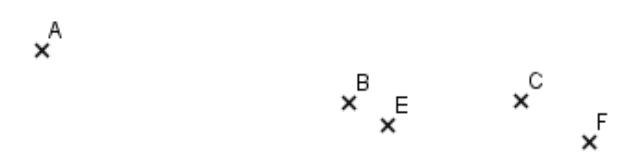
- . Les points A, B, E sont alignés.
- . Les points A, B, C, D sont alignés.
- .Les points A, B, C, E sont alignés.

3. Avec quelle proposition es-tu d'accord ?




- .Les points H, G, I sont alignés.
- .Les points H, G, I, F sont alignés.
- .Les points H, G, F sont alignés.

4. Avec quelle proposition es-tu d'accord ?




- .Les points A, B, C sont alignés.
- .Les points A, E, F sont alignés.
- .Les points A, B, F sont alignés.

5. Avec quelle proposition es-tu d'accord ?




- .Les points A, B, C sont alignés.
- .Les points A, F, C sont alignés.
- .Les points A, E, C sont alignés.

6. Combien de points sont alignés sur la figure suivante ? Tu peux utiliser ta règle.



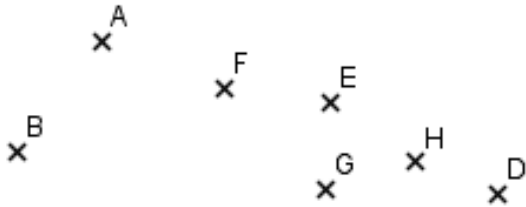
- 2 points
- 3 points
- 4 points.

7. Combien de points sont alignés sur la figure suivante ? Tu peux utiliser ta règle.



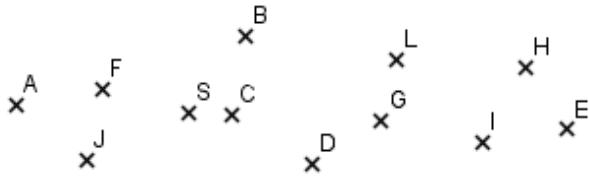
- 3 points
- 4 points
- 5 points

8. Sur ce dessin quatre points sont alignés. Lesquels ?



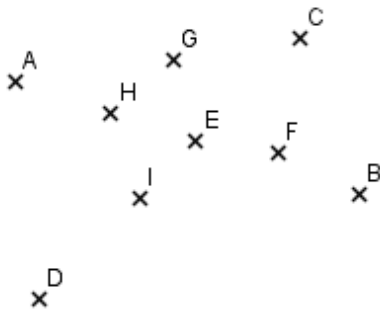
- A, F, E, D
- A, F, H, D
- B, G, H, D

9. Sur ce dessin cinq points sont alignés. Lesquels ?



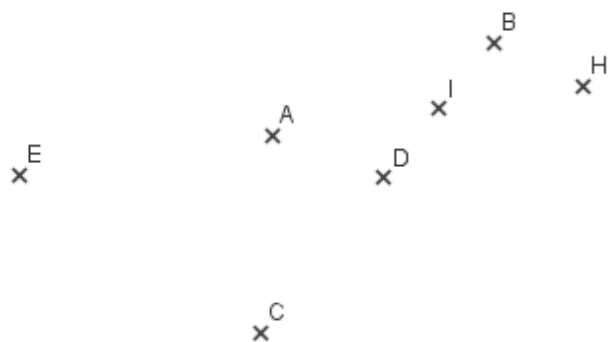
- A, S, C, I, E.
- A, S, C, G, E.
- A, S, C, G, I

10. Quel est le point qui est aligné avec les points A et B et C et D ?



- E
- I
- H

11. Quel est le point qui est aligné avec les points B et C et qui est aussi aligné avec les points A et E ?



- D
- H
- I

12. Avec quelle proposition es-tu d'accord ?

- Si les points A, B, C sont alignés cela signifie qu'ils sont sur la même droite.
- Si les points A, B, C sont alignés cela signifie qu'ils sont sur la même ligne.
- Si les points A, B, C sont alignés cela signifie qu'ils ne sont pas sur la même droite.

Codes série 60 – groupe 3 :

- 1. ●●
- 2. ●●
- 3. ●

- 4. ●●●
- 5. ●●
- 6. ●●●

- 7. ●
- 8. ●●
- 9. ●●

- 10. ●●
- 11. ●●●
- 12. ●

Correction Série : 60 Groupe : 3

1. Quels sont les points qui sont sur la droite (AC) ?



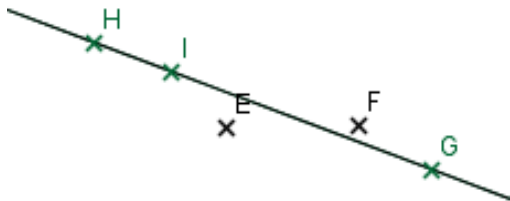
- F et D
- F
- F, E et D

2. Avec quelle proposition es-tu d'accord ?



- . Les points A, B, E sont alignés.
- . Les points A, B, C, D sont alignés.
- . Les points A, B, C, E sont alignés.

3. Avec quelle proposition es-tu d'accord ?



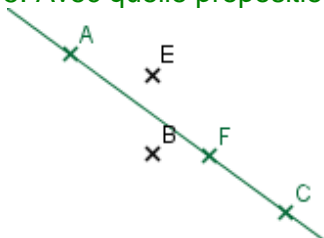
- . Les points H, G, I sont alignés.
- . Les points H, G, I, F sont alignés.
- . Les points H, G, F sont alignés.

4. Avec quelle proposition es-tu d'accord ?



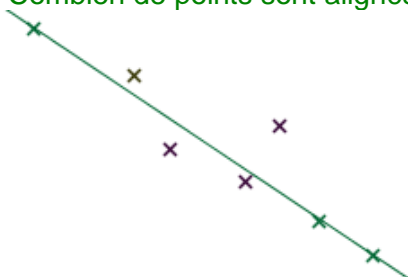
- . Les points A, B, C sont alignés.
- . Les points A, E, F sont alignés.
- . Les points A, B, F sont alignés.

5. Avec quelle proposition es-tu d'accord ?



- . Les points A, B, C sont alignés.
- . Les points A, F, C sont alignés.
- . Les points A, E, C sont alignés.

6. Combien de points sont alignés sur la figure suivante ? Tu peux utiliser ta règle.



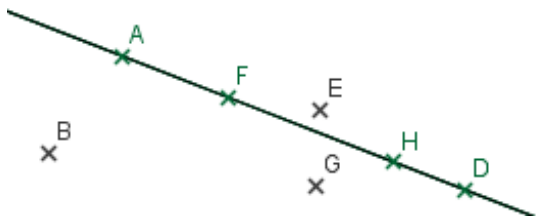
- 5 points
- 4 points
- 3 points.

7. Combien de points sont alignés sur la figure suivante ? Tu peux utiliser ta règle.



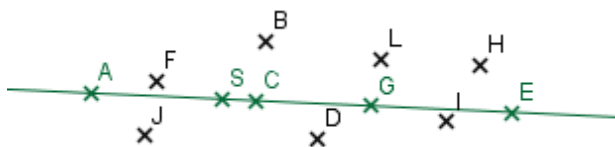
- 3 points
- 4 points
- 5 points

8. Sur ce dessin quatre points sont alignés. Lesquels ?



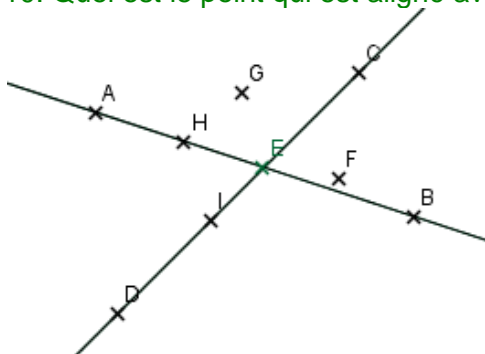
- A, F, E, D
- A, F, H, D
- B, G, H, D

9. Sur ce dessin cinq points sont alignés. Lesquels ?



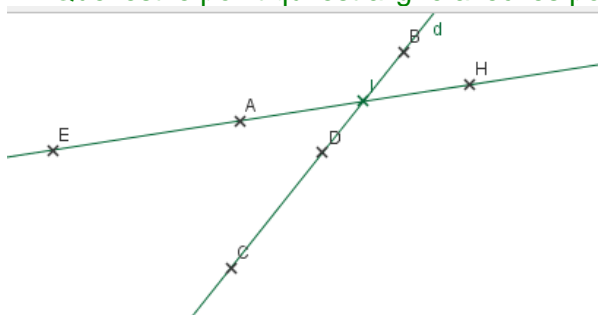
- A, S, C, I, E.
- A, S, C, G, E.
- A, S, C, G, I

10. Quel est le point qui est aligné avec les points A et B et C et D ?



- I
- E
- H

11. Quel est le point qui est aligné avec les points B et C et qui est aussi aligné avec les points A et E ?



- D
- H
- I

12. Avec quelle proposition es-tu d'accord ?

- Si les points A, B, C sont alignés cela signifie qu'ils sont sur le même droite.
- Si les points A, B, C sont alignés cela signifie qu'ils sont sur la même ligne.
- Si les points A, B, C sont alignés cela signifie qu'ils ne sont pas sur le même droite.

