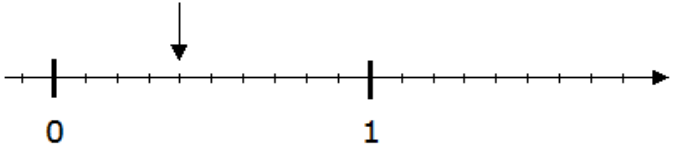
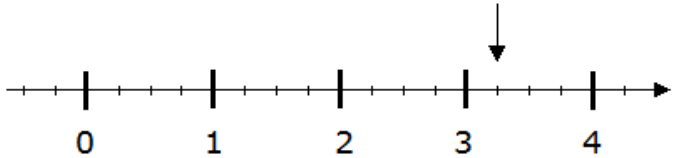
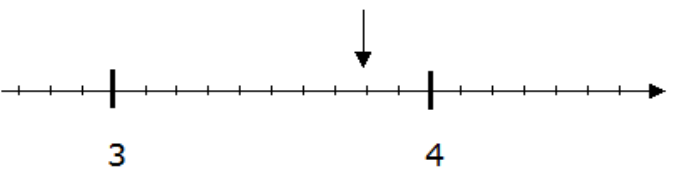
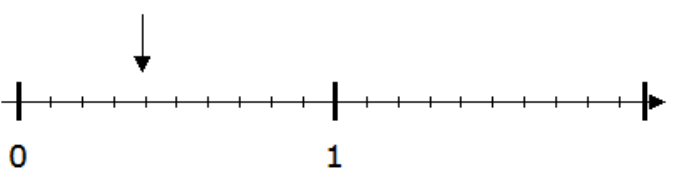
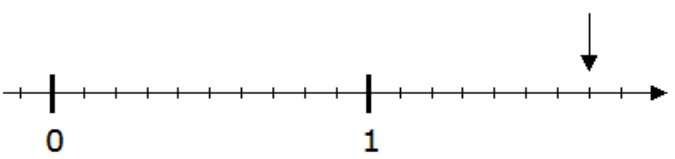
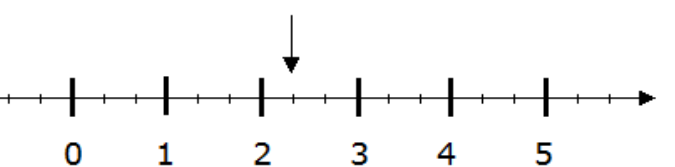
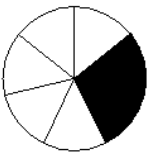
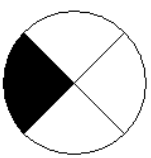
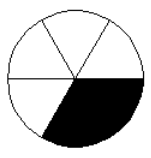
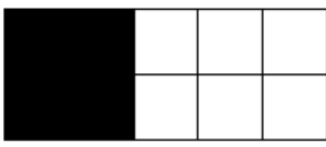
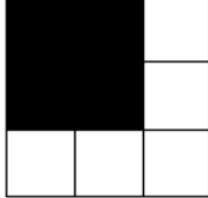



Connaissance des fractions simples et des nombres décimaux - Série : 42 Groupe : 15

Je trouve la fraction de l'unité correspondant à la flèche

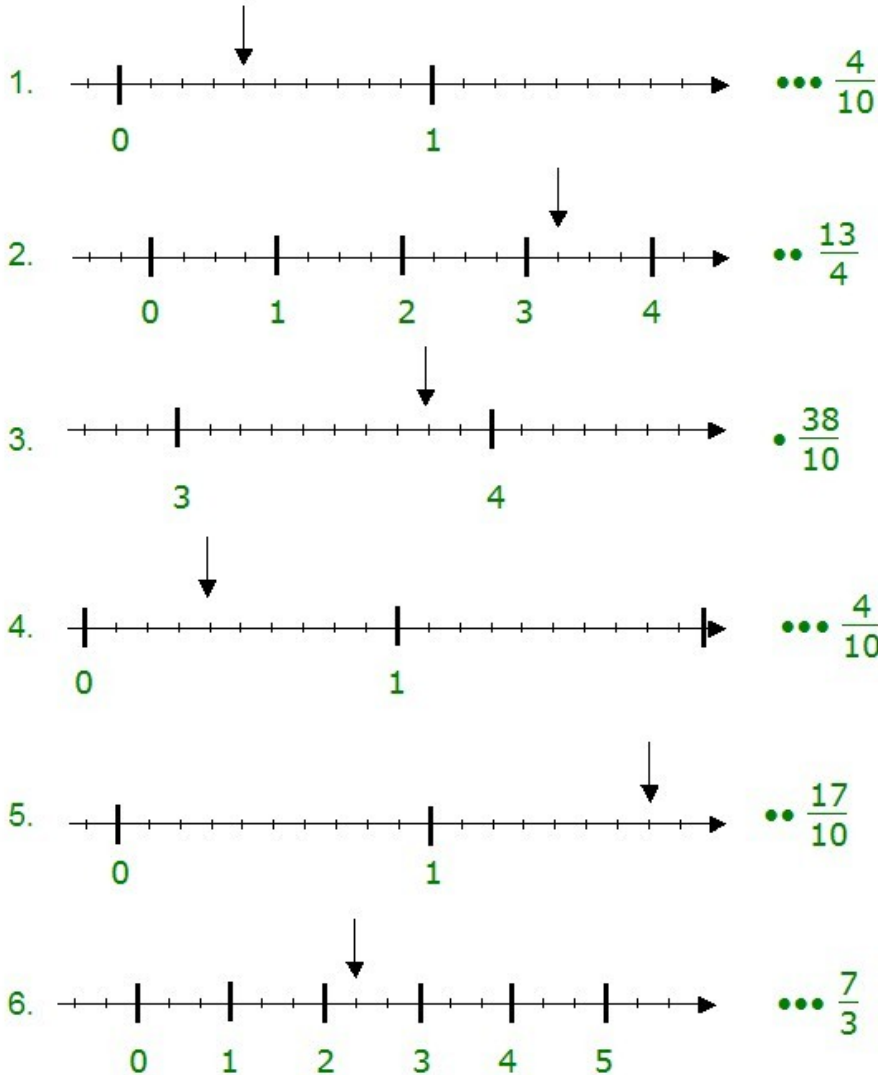
1.  • $\frac{6}{10}$ •• $\frac{2}{10}$ ••• $\frac{4}{10}$
2.  • $\frac{16}{4}$ •• $\frac{13}{4}$ ••• $\frac{4}{13}$
3.  • $\frac{38}{10}$ •• $\frac{12}{10}$ ••• $\frac{8}{10}$
4.  • $\frac{4}{5}$ •• $\frac{2}{5}$ ••• $\frac{4}{10}$
5.  • $\frac{18}{10}$ •• $\frac{17}{10}$ ••• $\frac{19}{10}$
6.  • $\frac{10}{3}$ •• $\frac{21}{3}$ ••• $\frac{7}{3}$

Je trouve la fraction de l'unité représentée par la partie coloriée

7.  • $\frac{2}{5}$ •• $\frac{1}{5}$ ••• $\frac{2}{7}$
8.  • $\frac{1}{4}$ •• $\frac{1}{3}$ ••• $\frac{3}{4}$
9.  • $\frac{2}{6}$ •• $\frac{1}{5}$ ••• $\frac{1}{4}$
10.  • $\frac{2}{10}$ •• $\frac{2}{5}$ ••• $\frac{1}{6}$
11.  • $\frac{1}{5}$ •• $\frac{4}{5}$ ••• $\frac{4}{9}$
12.  • $\frac{9}{20}$ •• $\frac{1}{2}$ ••• $\frac{11}{20}$

Connaissance des fractions simples et des nombres décimaux - Série : 42 Groupe : 15

Je trouve la fraction de l'unité correspondant à la flèche



Je trouve la fraction de l'unité représentée par la partie coloriée

