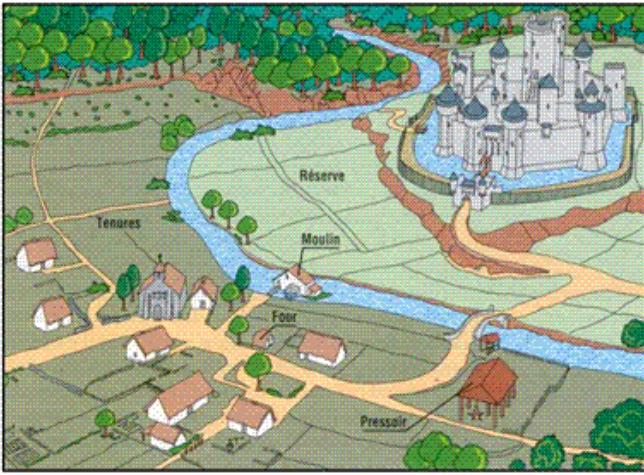


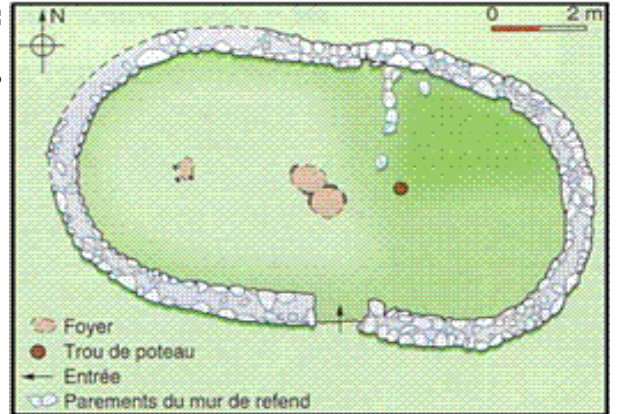
# La vie à la campagne :

Document 1 : Décris ce dessin.



Document 2 :

voici le plan d'une maison de paysans au Moyen-âge, à ton avis, qui vivait dans cette maison ?



Document 3 : A quoi sert la construction à droite de la miniature ?



Document 4 :  
Qu'est-ce qu'une famine ?

Qu'est-ce qui montre dans le texte la gravité de la famine ?

## Une famine en 1033

« Les saisons devinrent si mauvaises qu'on ne pouvait plus trouver un moment favorable pour ensemer les champs et récolter la moisson surtout à cause des eaux dont la terre était inondée [...]. Là où le grain était le mieux sorti, il ne donnait qu'un sixième de sa mesure<sup>1</sup> [...].

Beaucoup de gens pétrissaient avec ce qui leur restait de farine ou de son une terre blanche pareille à l'argile et en faisaient des pains [...]. Il y avait trop de morts pour qu'on pût songer à les enterrer. »

*un sixième de sa mesure<sup>1</sup> = un sixième de ce qu'il produisait normalement.*



**Document 5 : Que font les paysans en hiver ?**

.....

.....

.....

.....

**Document 6 : Que font les hommes en haut à droite de l'enluminure ?  
A ton avis, pour quelles raisons le font-ils ?**

.....

.....

.....

.....



**Document 7 : Quels sont les outils utilisés par ces paysans ?**



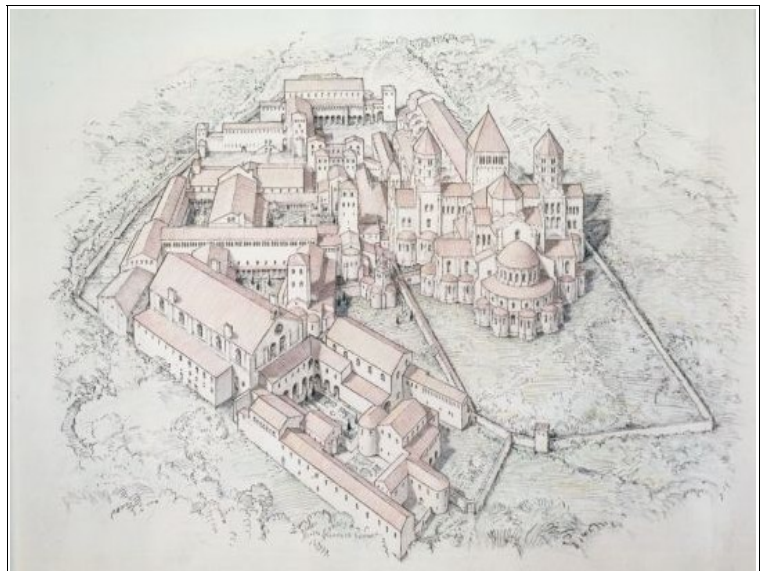
.....

.....

.....

.....

**Document 11 : Qu'est-ce qu'une « abbaye » ?**



**Essaie d'expliquer qui y vit et comment  
(tu peux écrire derrière cette feuille)**

.....

.....

.....

.....