





















Le monde en crise (1918-1939)

Document 1		1-1 Que font précisément ces différents ouvriers ? 1-2 A ton avis, pourquoi fabriquaient-on les voitures de cette manière ?												
Document 2		2-1 Quelle est l'attitude de ces gens ? 2-2 Décris les femmes. 2-3 Ce document illustre une période appelée « les années folles » entre 1920 et 1929. A ton avis, que s'est-il passé pendant ces années et pourquoi ont-elles eu lieu en 1920 ?												
Document 3	<table border="1" data-bbox="85 478 324 550"> <thead> <tr> <th>Années</th> <th>1929</th> <th>1930</th> <th>1931</th> <th>1932</th> <th>1933</th> </tr> </thead> <tbody> <tr> <td>Nombre de chômeurs</td> <td>9 000</td> <td>14 000</td> <td>72 000</td> <td>347 000</td> <td>356 000</td> </tr> </tbody> </table>	Années	1929	1930	1931	1932	1933	Nombre de chômeurs	9 000	14 000	72 000	347 000	356 000	3-1 Qu'est-ce que le chômage ? 3-2 Le nombre de chômeurs a été multiplié par combien entre 1929 et 1933 (en 4 ans seulement) ? 3-3 A ton avis, à quoi est due cette augmentation ?
Années	1929	1930	1931	1932	1933									
Nombre de chômeurs	9 000	14 000	72 000	347 000	356 000									
Document 4		4-1 Que font ces gens ? 4-2 A ton avis, pourquoi le font-ils ?												
Document 5		5-1 Quelle est l'attitude de ces gens ? A ton avis, que font-ils ? 5-2 Ce document illustre une période appelée le « Front Populaire ». Cherche des informations dessus et/ou sur Léon Blum, explique ce qu'il a fait en 1936.												
Document 6		6-1 Quelle est la nature de ce document ? 6-2 Explique quel est son message. 6-3 A ton avis, comment Hitler a-t-il pris le pouvoir en Allemagne ?												
Document 7		7-1 Que sais-tu sur la personne en bas à droite de la photo ? 7-2 Décris l'attitude des gens autour de lui. 7-3 A ton avis, quelle image avait-il pour la plupart des allemands à cette époque ?												
Document 8		8-1 Quelle est la nature de ce document ? 8-2 A ton avis, pour quelles raisons a-t-il été fait ?												
Document 9		9-1 A ton avis, pourquoi Hitler ne voulait-il pas « d'éducation intellectuelle » pour tous ? 9-2 Pourquoi le parlement allemand a-t-il empêché le mariage entre les juifs les autres citoyens ?												
Document 10		10-1 Cherche des informations sur ces deux personnes.												
Document 11		11-1 Décris ce tableau qui représente Guernica, la 1 ^{ère} ville du monde à avoir été bombardée par avion. 11-2 A ton avis, quel est le message de Pablo Picasso ?												

Le monde en crise (1918-1939)

Document 1		1-1 Que font précisément ces différents ouvriers ? 1-2 A ton avis, pourquoi fabriquaient-on les voitures de cette manière ?												
Document 2		2-1 Quelle est l'attitude de ces gens ? 2-2 Décris les femmes. 2-3 Ce document illustre une période appelée « les années folles » entre 1920 et 1929. A ton avis, que s'est-il passé pendant ces années et pourquoi ont-elles eu lieu en 1920 ?												
Document 3	<table border="1" data-bbox="1153 478 1393 550"> <thead> <tr> <th>Années</th> <th>1929</th> <th>1930</th> <th>1931</th> <th>1932</th> <th>1933</th> </tr> </thead> <tbody> <tr> <td>Nombre de chômeurs</td> <td>9 000</td> <td>14 000</td> <td>72 000</td> <td>347 000</td> <td>356 000</td> </tr> </tbody> </table>	Années	1929	1930	1931	1932	1933	Nombre de chômeurs	9 000	14 000	72 000	347 000	356 000	3-1 Qu'est-ce que le chômage ? 3-2 Le nombre de chômeurs a été multiplié par combien entre 1929 et 1933 (en 4 ans seulement) ? 3-3 A ton avis, à quoi est due cette augmentation ?
Années	1929	1930	1931	1932	1933									
Nombre de chômeurs	9 000	14 000	72 000	347 000	356 000									
Document 4		4-1 Que font ces gens ? 4-2 A ton avis, pourquoi le font-ils ?												
Document 5		5-1 Quelle est l'attitude de ces gens ? A ton avis, que font-ils ? 5-2 Ce document illustre une période appelée le « Front Populaire ». Cherche des informations dessus et/ou sur Léon Blum, explique ce qu'il a fait en 1936.												
Document 6		6-1 Quelle est la nature de ce document ? 6-2 Explique quel est son message. 6-3 A ton avis, comment Hitler a-t-il pris le pouvoir en Allemagne ?												
Document 7		7-1 Que sais-tu sur la personne en bas à droite de la photo ? 7-2 Décris l'attitude des gens autour de lui. 7-3 A ton avis, quelle image avait-il pour la plupart des allemands à cette époque ?												
Document 8		8-1 Quelle est la nature de ce document ? 8-2 A ton avis, pour quelles raisons a-t-il été fait ?												
Document 9		9-1 A ton avis, pourquoi Hitler ne voulait-il pas « d'éducation intellectuelle » pour tous ? 9-2 Pourquoi le parlement allemand a-t-il empêché le mariage entre les juifs les autres citoyens ?												
Document 10		10-1 Cherche des informations sur ces deux personnes.												
Document 11		11-1 Décris ce tableau qui représente Guernica, la 1 ^{ère} ville du monde à avoir été bombardée par avion. 11-2 A ton avis, quel est le message de Pablo Picasso ?												