



















# Histoire : la Gaule, la conquête romaine

<b>Document 1</b> 	1-1 De quelle région sont partis les Celtes ?
	1-2 Dans quelles régions sont-ils allés s'installer ? <i>1-3 Cherche des informations sur les Celtes.</i>
<b>Document 2</b> 	2-1 Quelle est la nature de ce document ?
	2-2 Quelles inventions gauloises montre ce document ? <i>2-3 Recherche d'autres inventions gauloises.</i>
<b>Document 3</b> 	3-1 Décris précisément ce casque gaulois.
	3-2 Que peux-tu en déduire sur la qualité de l'artisanat gaulois ?
<b>Document 4</b> 	4-1 Ce texte parle des gaulois, qui l'a écrit ?
	4-2 Qui sont les druides et quel est leur rôle ? <i>4-3 Cherche d'autres informations sur les druides.</i>
<b>Document 5</b> 	5-1 A quoi correspondent les noms sur cette carte ?
	5-2 Pourquoi cette organisation de la population gauloise a facilité la conquête des romains ? <i>5-3 Quel peuple occupait notre région ?</i>
<b>Document 6</b> 	6-1 D'où vient le mot « romain » ?
	6-2 Que peux-tu dire de la taille de l'Empire romain au II <sup>e</sup> siècle (2 <sup>e</sup> s.) ? 6-3 De quelle manière s'est passée la conquête de l'Empire ? <i>6-4 Nomme précisément les régions occupées par cet Empire.</i>
<b>Document 7</b> 	7-1 A quoi est comparé le port de Rome ?
	7-2 Qu'est-ce qui montre la puissance de Rome ? <i>7-3 D'où viennent les marchandises qui arrivent à Rome ?</i>
<b>Document 8</b> 	8-1 Quelle est la nature de ce document ?
	8-2 Qui sont ces deux personnages ? <i>8-3 A ton avis, qu'a voulu montrer l'artiste ?</i>
<b>Document 9</b> 	9-1 Qui a écrit ce texte ? De qui parle-t-il ?
	9-2 Donne un titre à ce texte. <i>9-3 Cherche des informations sur César et Vercingétorix.</i>

# Histoire : la Gaule, la conquête romaine

<b>Document 1</b> 	1-1 De quelle région sont partis les Celtes ?
	1-2 Dans quelles régions sont-ils allés s'installer ? <i>1-3 Cherche des informations sur les Celtes.</i>
<b>Document 2</b> 	2-1 Quelle est la nature de ce document ?
	2-2 Quelles inventions gauloises montre ce document ? <i>2-3 Recherche d'autres inventions gauloises.</i>
<b>Document 3</b> 	3-1 Décris précisément ce casque gaulois.
	3-2 Que peux-tu en déduire sur la qualité de l'artisanat gaulois ?
<b>Document 4</b> 	4-1 Ce texte parle des gaulois, qui l'a écrit ?
	4-2 Qui sont les druides et quel est leur rôle ? <i>4-3 Cherche d'autres informations sur les druides.</i>
<b>Document 5</b> 	5-1 A quoi correspondent les noms sur cette carte ?
	5-2 Pourquoi cette organisation de la population gauloise a facilité la conquête des romains ? <i>5-3 Quel peuple occupait notre région ?</i>
<b>Document 6</b> 	6-1 D'où vient le mot « romain » ?
	6-2 Que peux-tu dire de la taille de l'Empire romain au II <sup>e</sup> siècle (2 <sup>e</sup> s.) ? 6-3 De quelle manière s'est passée la conquête de l'Empire ? <i>6-4 Nomme précisément les régions occupées par cet Empire.</i>
<b>Document 7</b> 	7-1 A quoi est comparé le port de Rome ?
	7-2 Qu'est-ce qui montre la puissance de Rome ? <i>7-3 D'où viennent les marchandises qui arrivent à Rome ?</i>
<b>Document 8</b> 	8-1 Quelle est la nature de ce document ?
	8-2 Qui sont ces deux personnages ? <i>8-3 A ton avis, qu'a voulu montrer l'artiste ?</i>
<b>Document 9</b> 	9-1 Qui a écrit ce texte ? De qui parle-t-il ?
	9-2 Donne un titre à ce texte. <i>9-3 Cherche des informations sur César et Vercingétorix.</i>

