





















## En méditerranée, la civilisation arabe :

<b>Document 1</b>	 <p>1-1 Quelle est la nature de ce document ?</p> <p>1-2 Avec quels animaux se déplacent ces personnes ?</p> <p>1-3 A ton avis, pourquoi ?</p>
<b>Document 2</b>	 <p>2-1 Situe la ville de <i>La Mecque</i> sur le document 4.</p> <p>2-2 Décris ce que tu vois.</p> <p>2-3 Le pèlerinage de La Mecque fait partie des 5 piliers de l'Islam, la religion des musulmans, cherche quels sont les autres piliers.</p>
<b>Document 3</b>	 <p>3-1 Décris cette mosquée.</p> <p>3-2 Qu'est-ce qu'une mosquée ?</p> <p>3-3 Comment appelle-t-on la tour et à quoi sert-elle ?</p> <p>3-4 Cherche comment s'appelait le prophète musulman.</p>
<b>Document 4</b>	 <p>4-1 Cite les régions ou pays occupés par les arabes au 7<sup>e</sup> siècle.</p> <p>4-2 Autour de quelle mer s'étend cet Empire ?</p>
<b>Document 5</b>	 <p>5-1 Quel moyen de transport utilisaient les commerçants arabes ?</p> <p>5-2 Quel autre moyen de transport utilisaient-ils ? (tu peux utiliser le document 1)</p> <p>5-3 A ton avis, avec quelles zones du monde commerçaient-ils ?</p>
<b>Document 6</b>	 <p>6-1 Situe Jérusalem sur la carte (document 4).</p> <p>6-2 Décris la représentation du siège de Jérusalem : les différents personnages, les techniques de combat utilisées.</p> <p>6-3 Cherche des informations sur Godefroi de Bouillon et sur Saladin.</p>
<b>Document 7</b>	 <p>7-1 Que représente cette miniature ?</p> <p>7-2 Que penses-tu des connaissances des arabes en astronomie à cette époque ?</p> <p>7-3 Al-Shirāzī (1236-1311) rédigea cette encyclopédie d'astronomie et de mathématique. Sais-tu ce que les arabes ont apporté aux occidentaux dans ce dernier domaine ?</p>
<b>Document 8</b>	 <p>8-1 Que montre cette anecdote sur la différence entre les pratiques médicales arabe et occidentale ?</p> <p>8-2 Que penses-tu de la manière dont est racontée cette anecdote ?</p> <p>8-3 A ton avis, que pensaient les Arabes des Occidentaux ?</p>
<b>Document 9</b>	 <p>9-1 Qu'est-ce qui montre l'influence arabe sur cette église ?</p> <p>9-2 Sur le plan de l'architecture, quels sont les pays européens le plus influencés par la civilisation arabe ?</p>
<b>Document 10</b>	 <p>10-1 Classe ces mots, dans différents domaines : <i>scientifique ; navigation ; commerce ; artisanat ; alimentation</i> ;</p> <p>10-2 A ton avis, comment ces mots sont-ils arrivés dans notre langue ?</p>

## En méditerranée, la civilisation arabe :

<b>Document 1</b>	 <p>1-1 Quelle est la nature de ce document ?</p> <p>1-2 Avec quels animaux se déplacent ces personnes ?</p> <p>1-3 A ton avis, pourquoi ?</p>
<b>Document 2</b>	 <p>2-1 Situe la ville de <i>La Mecque</i> sur le document 4.</p> <p>2-2 Décris ce que tu vois.</p> <p>2-3 Le pèlerinage de La Mecque fait partie des 5 piliers de l'Islam, la religion des musulmans, cherche quels sont les autres piliers.</p>
<b>Document 3</b>	 <p>3-1 Décris cette mosquée.</p> <p>3-2 Qu'est-ce qu'une mosquée ?</p> <p>3-3 Comment appelle-t-on la tour et à quoi sert-elle ?</p> <p>3-4 Cherche comment s'appelait le prophète musulman.</p>
<b>Document 4</b>	 <p>4-1 Cite les régions ou pays occupés par les arabes au 7<sup>e</sup> siècle.</p> <p>4-2 Autour de quelle mer s'étend cet Empire ?</p>
<b>Document 5</b>	 <p>5-1 Quel moyen de transport utilisaient les commerçants arabes ?</p> <p>5-2 Quel autre moyen de transport utilisaient-ils ? (tu peux utiliser le document 1)</p> <p>5-3 A ton avis, avec quelles zones du monde commerçaient-ils ?</p>
<b>Document 6</b>	 <p>6-1 Situe Jérusalem sur la carte (document 4).</p> <p>6-2 Décris la représentation du siège de Jérusalem : les différents personnages, les techniques de combat utilisées.</p> <p>6-3 Cherche des informations sur Godefroi de Bouillon et sur Saladin.</p>
<b>Document 7</b>	 <p>7-1 Que représente cette miniature ?</p> <p>7-2 Que penses-tu des connaissances des arabes en astronomie à cette époque ?</p> <p>7-3 Al-Shirāzī (1236-1311) rédigea cette encyclopédie d'astronomie et de mathématique. Sais-tu ce que les arabes ont apporté aux occidentaux dans ce dernier domaine ?</p>
<b>Document 8</b>	 <p>8-1 Que montre cette anecdote sur la différence entre les pratiques médicales arabe et occidentale ?</p> <p>8-2 Que penses-tu de la manière dont est racontée cette anecdote ?</p> <p>8-3 A ton avis, que pensaient les Arabes des Occidentaux ?</p>
<b>Document 9</b>	 <p>9-1 Qu'est-ce qui montre l'influence arabe sur cette église ?</p> <p>9-2 Sur le plan de l'architecture, quels sont les pays européens le plus influencés par la civilisation arabe ?</p>
<b>Document 10</b>	 <p>10-1 Classe ces mots, dans différents domaines : <i>scientifique ; navigation ; commerce ; artisanat ; alimentation</i> ;</p> <p>10-2 A ton avis, comment ces mots sont-ils arrivés dans notre langue ?</p>